
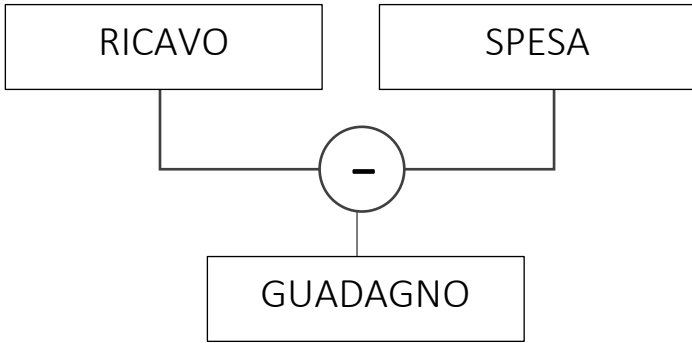
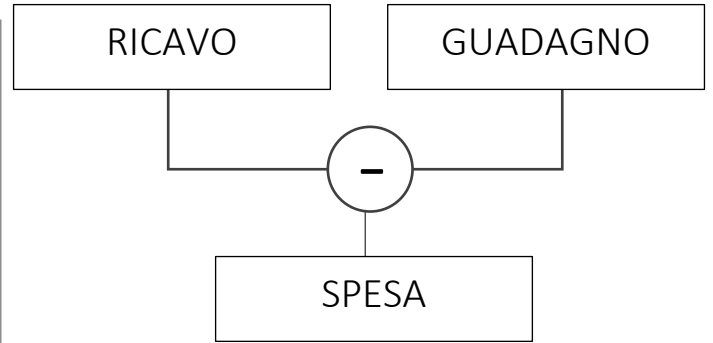


## LA COMPRAVENDITA

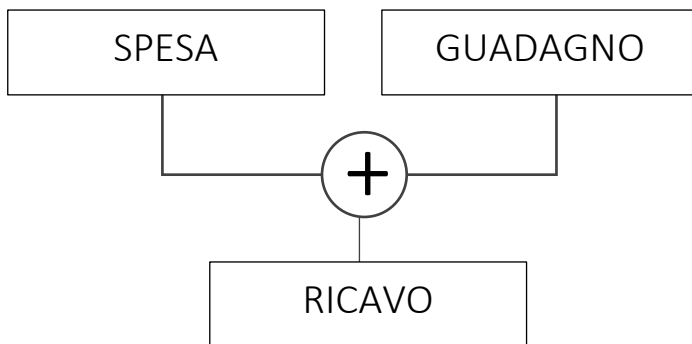
 A. Colora così le caselle: guadagno verde, spesa giallo, ricavo azzurro, perdita rosso.



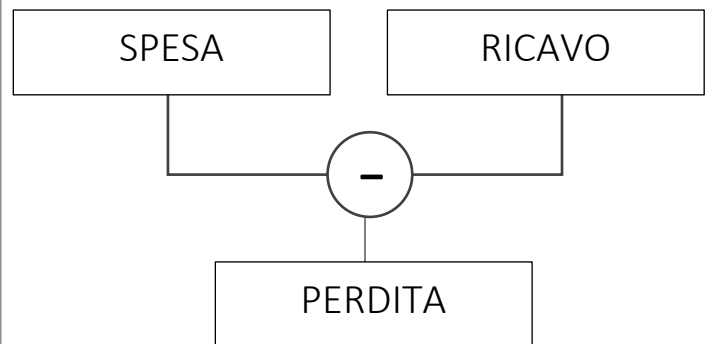
il **guadagno** è quello che ottieni in più rispetto a quello che avevi speso




la **spesa** è quello che hai dato per acquistare la merce che poi hai venduto



il **ricavo** o **incasso** è quello che ti metti in cassa dopo aver venduto



la **perdita**, ahimè, è quando tu hai speso più di quello che sei riuscito a incassare

 B. Impara a memoria le formule ma soprattutto accertati di averle capite bene, così non dimenticherai mai come calcolare spesa, ricavo, guadagno o perdita.

 C. Leggi, comprendi e risolvi i problemi.


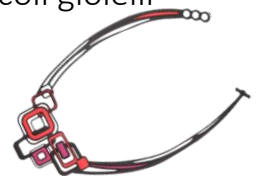
**Il mercatino di beneficenza** (risolvi qui sulla scheda)

Ilaria vuole fare un mercatino di beneficenza. Con i suoi 15 € va all'emporio dei Cinesi e compra rocchetti di filo, perline e spillette; spende tutto quello che ha. Poi insieme a Myriam ed Emma costruisce spille, bracciali, anelli e collanine. Vende tutti i piccoli gioielli al mercatino che realizza a Piazza Spada e riesce a incassare 32 €.

Ha fatto un guadagno o una perdita? Rispondi → \_\_\_\_\_

Quanto ha guadagnato? Calcola in riga. \_\_\_\_\_ ○ \_\_\_\_\_ = \_\_\_\_\_

Rispondo: \_\_\_\_\_



**La maschera da pagliaccio** (risolvi sul quaderno)

Jacopo ha realizzato una maschera da pagliaccio molto bella spendendo solo 7 € per acquistare colori e gomitoli di lana. Poi decide di vendere la sua maschera ad un'amica della sua mamma, che gliela chiede con insistenza.

Dalla vendita guadagna 8 €. **A quanto ha venduto la sua maschera?**

EURO per i giochi di compravendita in classe (senza Euro Cent)

