

ALUNNO \_\_\_\_\_ CLASSE \_\_\_\_\_

LINEE SEMPLICI E INTRECCiate  
(non semplici)

1) Disegna una linea  
**semplice aperta.**

2) Disegna una linea  
**semplice chiusa.**










3) Disegna una linea  
**intrecciata aperta.**

4) Disegna una linea  
**intrecciata chiusa.**



5) Osserva le linee e scrivi nella tabella **SÌ** o **NO** per ogni caratteristica elencata. Segui l'esempio.

| Tipo di linea |  |  |  |  |  |  |  |
|---------------|---|---|---|---|--|---|---|
| Aperta        | Sì  |   |   |   |  |   |   |
| Chiusa        | No  |   |   |   |  |   |   |
| Semplice      | Sì  |   |   |   |  |   |   |
| Intrecciata   | No  |   |   |   |  |   |   |
| Curva         | Sì  |   |   |   |  |   |   |
| Spezzata      | No  |   |   |   |  |   |   |
| Mista         | No  |   |   |   |  |   |   |