

COPPIA, PAIO, DOPPIO E METÀ

I numeri nascosti nelle parole.

☺ Fai sempre attenzione alle parole! Forse ti sarai già accorto che alcune parole indicano un numero ben preciso.



Una coppia di colombi sono 2 colombi.



Una coppia di sposi sono 2 persone che si sposano.



Una coppia di poliziotti sono _____ poliziotti.



Un paio di scarpe sono 2 scarpe.




Un paio di guanti sono 2 guanti.



Un paio di caramelle sono _____ caramelle.

✏️ 1 Trasforma le frasi in operazioni come nell'esempio ed esegui i calcoli.

Tre coppie di gatti sono _____ gatti.



$$2 \times 3 = \underline{\quad}$$

Quattro coppie di pesci sono _____ pesci.

$$\underline{\quad} \times \underline{\quad} = \underline{\quad}$$

Sei coppie di farfalle sono _____ farfalle.

$$\underline{\quad} \times \underline{\quad} = \underline{\quad}$$

Cinque paia di orecchini sono _____ orecchini.

$$\underline{\quad} \times \underline{\quad} = \underline{\quad}$$

Otto paia di calzini sono _____ calzini.

$$\underline{\quad} \times \underline{\quad} = \underline{\quad}$$

Disegna

Disegna

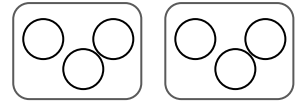
Disegna

Disegna

☺ E ora attento al **doppio** che **significa x 2!**

Il doppio di tre palline sono sei palline.

$3 \times 2 = 6$



Il doppio di cinque stelle sono ___ stelle.

___ ○ ___ = ___



Il doppio di sette bottoni sono ___ bottoni.

___ ○ ___ = ___



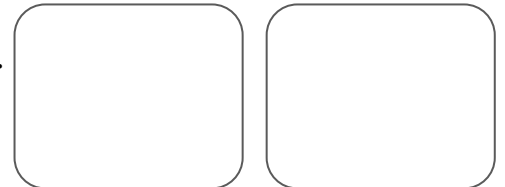
Il doppio di nove aerei sono ___ aerei.

___ ○ ___ = ___



Il doppio di quattro sedie sono ___ sedie.

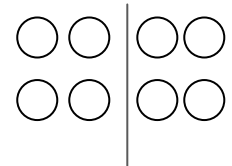
___ ○ ___ = ___



☺ E ora attento alla **metà** che **significa : 2!**

La metà di otto palline sono quattro palline.

$8 : 2 = 4$




La metà di dieci penne sono ___ penne.

___ ○ ___ = ___



La metà di sedici gomme sono ___ gomme.

___ ○ ___ = ___




La metà di diciotto tappi sono ___ tappi.

___ ○ ___ = ___



La metà di quattordici banchi sono ___ banchi.

___ ○ ___ = ___



La metà di dodici gessetti sono ___ gessetti.

___ ○ ___ = ___

