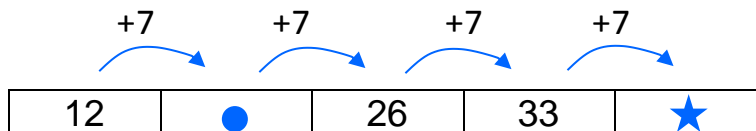


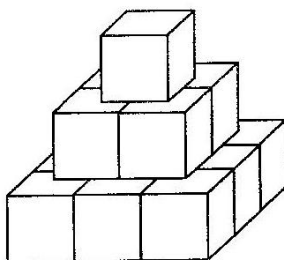
In ogni domanda segna la risposta corretta:

**1) Osserva.**



- a. Sotto il ● c'è il numero .....
- b. Sotto la ★ c'è il numero .....

**2) Osserva questa costruzione fatta con mattoncini di legno:**



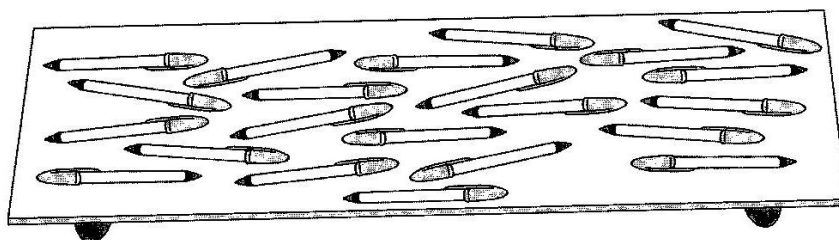
Quanti mattoncini sono stati utilizzati?

- A.  14
- B.  9
- C.  13

**3) Quale numero corrisponde a 3 decine e 16 unità?**

- A.  46
- B.  316
- C.  163

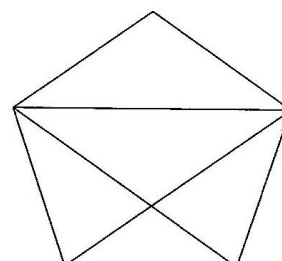
**4) Quante sono le penne sulla mensola?**



- A.  19
- B.  29
- C.  223

**5) Quanti triangoli compongono questa figura?**

- A.  3
- B.  6
- C.  5



6) La mamma segna su una tabella chi, tra i suoi figli, ha apparecchiato la tavola durante la settimana.


	Lunedì	Martedì	Mercoledì	Giovedì	Venerdì	Sabato	Domenica
Tommaso	X	X	X		X		
Nicolò					X	X	X
Luca			X			X	
Alice		X			X		

- a. Quale bambino ha apparecchiato più spesso a tavola? .....
- b. Qual è il giorno in cui nessun bambino ha apparecchiato? .....

7) Nella scatola dei pennarelli ne mancano 7: ne sono rimasti soltanto 15.  
Quanti pennarelli c'erano nella scatola all'inizio?

- A.  22                      B.  27                      C.  25

8) Osserva i fumetti. Chi tra Piero e Gigi ha abbastanza soldi per comprare il giornalino?



Risposta: potrà comprarlo .....

9) Quale delle seguenti operazioni è sbagliata?

- A.   $22 + 22 = 44$                       B.   $33 - 11 = 22$                       C.   $11 \times 2 = 13$

10) Qual è il risultato della seguente addizione?

$35 + 45 =$

- A.  90                      B.  80                      C.  70

11) Qual è il risultato della seguente sottrazione?

$$84 - 26 =$$

A.  58

B.  60

C.  42

12) Pino, Gino e Nino ogni sabato vanno al lago a pesca.  
 Osserva il disegno della strada che percorre ognuno dei tre.

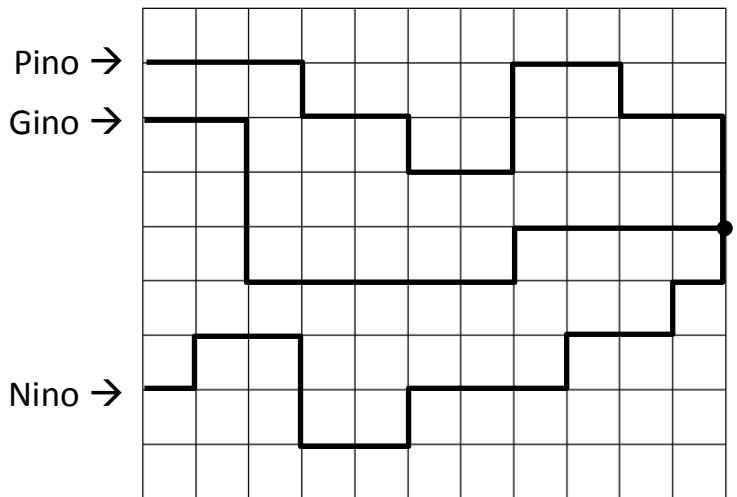
Il lago è segnato da questo pallino ●

Chi percorre la strada **più breve**?

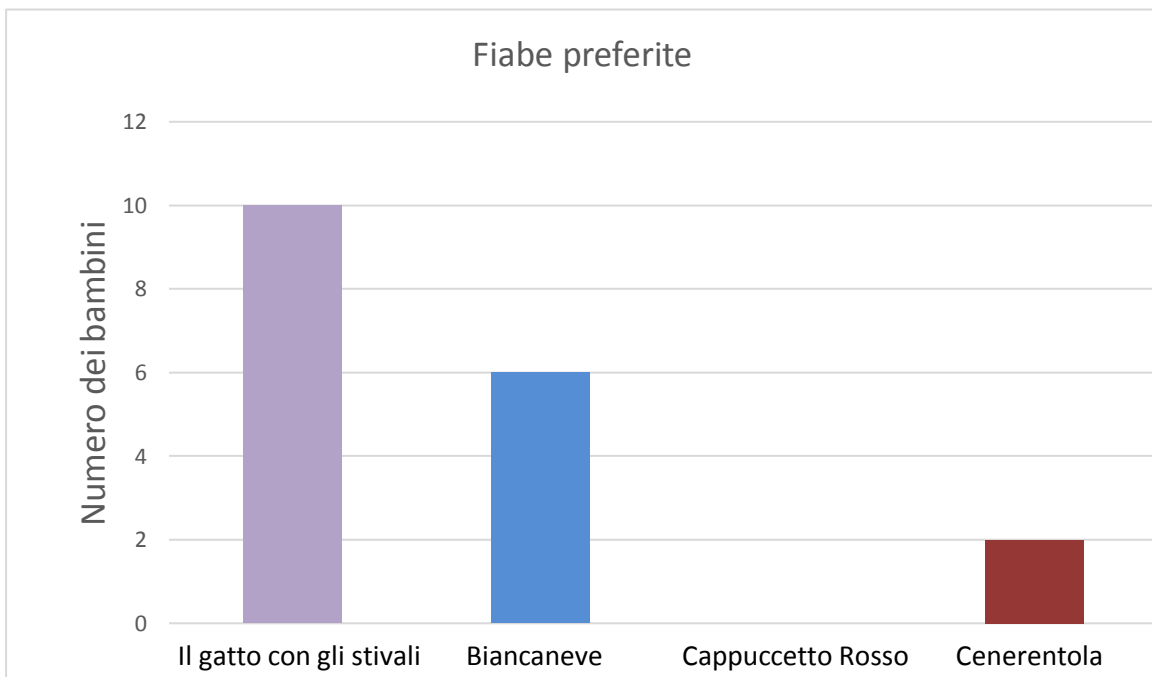
A.  Pino

B.  Gino

C.  Nino



13) 26 bambini fanno un'indagine sulle loro fiabe preferite.



a.

a. Quanti bambini preferiscono **Il gatto con gli stivali**?.....

b. Il grafico non è completo perché manca la colonna di **Cappuccetto Rosso**. Disegnala tu.

