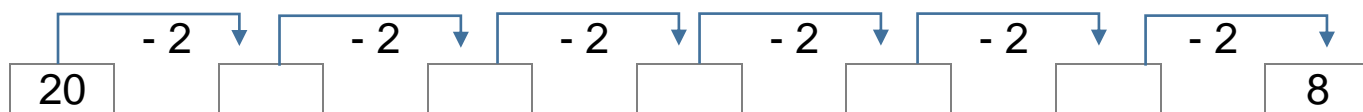


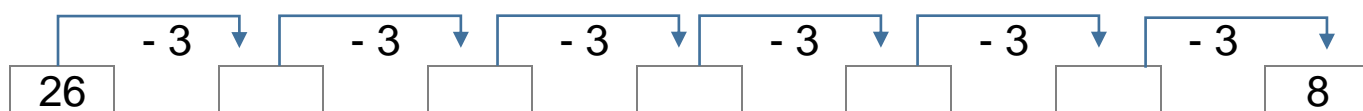
FINALMENTE SI PERDE!

 Completa le catene di sottrazioni rispettando la regola.

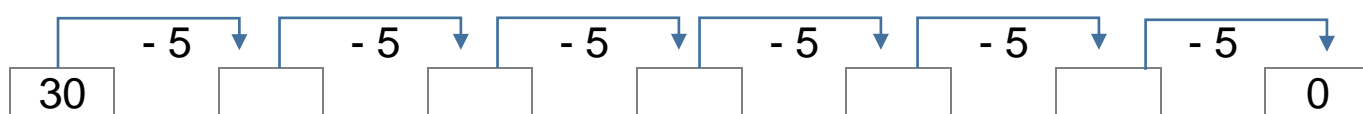
A. La regola è - 2



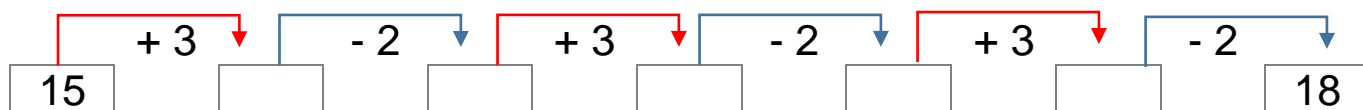
B. La regola è - 3



C. La regola è - 5



D. La regola è + 3, - 2



 Completa le tabelle.

	-4		$+4$	
	\downarrow		\downarrow	
		14		
		12		
		19		

	-3		$+3$	
	\downarrow		\downarrow	
		18		
		23		
		11		

	-2		$+2$	
	\downarrow		\downarrow	
		17		
		30		
		10		



Esegui rapidamente le sottrazioni in riga.

Segna l'ora di inizio: _____ Segna l'ora di fine: _____

16 - 3 = _____

18 - 8 = _____

25 - 2 = _____

28 - 4 = _____

22 - 2 = _____

19 - 5 = _____

27 - 5 = _____

26 - 5 = _____

17 - 4 = _____

29 - 6 = _____

24 - 3 = _____

26 - 3 = _____