


IL DOPPIO, IL TRIPLO E ALTRI RAGIONAMENTI

A. Ricorda cosa significa calcolare **il doppio** e scrivilo.

B. Osserva, leggi e rispondi.



La prima bambina ha in tasca 1 caramella. Ogni bambino che segue ha in tasca **il doppio** di caramelle di quello che lo precede.

Quante caramelle ha l'ultima bambina? ____




La prima bambina ha in tasca 2 biglie. Ogni bambino che segue ha in tasca **il doppio** di biglie di quello che lo precede.

Quante biglie ha l'ultimo bambino? ____


C. Ricorda cosa significa calcolare **il triplo** e scrivilo.

D. Osserva, leggi e rispondi.



La prima gallinella ha fatto un uovo; ogni gallinella che segue ha fatto **il triplo** delle uova di quella che la precede.

Quante uova ha fatto l'ultima gallinella? ____



La prima gallinella ha fatto zero uova; ogni gallinella che segue ha fatto **il triplo** delle uova di quella che la precede.

Quante uova ha fatto l'ultima gallinella? ____

E. Scrivi il risultato.

$$\begin{array}{l} 2 \times 2 = \underline{\quad} \quad 2 \times 4 = \underline{\quad} \quad 2 \times 6 = \underline{\quad} \quad 2 \times 5 = \underline{\quad} \quad 2 \times 8 = \underline{\quad} \quad 2 \times 7 = \underline{\quad} \\ 3 \times 2 = \underline{\quad} \quad 3 \times 4 = \underline{\quad} \quad 3 \times 6 = \underline{\quad} \quad 3 \times 5 = \underline{\quad} \quad 3 \times 8 = \underline{\quad} \quad 3 \times 7 = \underline{\quad} \end{array}$$