

LA COPPIA

La coppia è formata da 2 elementi (persone, animali, cose) che stanno insieme.

 Circonda le coppie e rispondi.



$$2 + 2 = \underline{\quad}$$

Quanti sposi in tutto?



$$\underline{\quad} + \underline{\quad} + \underline{\quad} = \underline{\quad}$$

Quanti pinguini in tutto?



$$\underline{\quad} + \underline{\quad} + \underline{\quad} + \underline{\quad} + \underline{\quad} = \underline{\quad}$$

Quanti gnomi in tutto?



$$\underline{\quad} + \underline{\quad} + \underline{\quad} + \underline{\quad} = \underline{\quad}$$

Quanti cavalli in tutto?








$$\underline{\quad} + \underline{\quad} + \underline{\quad} + \underline{\quad} + \underline{\quad} + \underline{\quad} = \underline{\quad}$$

Quanti amici in tutto?

IL PAIO

Il paio è formato da 2 elementi (persone, animali, cose) che stanno insieme.

 Circonda ogni paio e completa la tabella con le risposte.

	QUANTE PAIA?	QUANTI ELEMENTI?
 _____ + _____ + _____		
 _____ + _____ + _____ + _____ + _____		
 _____ + _____ + _____ + _____ + _____ + _____		
 _____ + _____ + _____ + _____ + _____ + _____ + _____		
 _____ + _____ + _____ + _____		

Rispondi.

- a. Due paia di sci quanti sci sono? _____
- b. Tre coppie di motociclisti quanti motociclisti sono? _____
- c. Cinque paia di pinne da sub quante pinne sono? _____
- d. Quattro coppie di denti quanti denti sono? _____
- e. Otto paia di scarpe da ballo quante scarpe sono? _____