


LO SCHELETRO E LE SUE PARTI

 A. Segna con una X il completamento giusto.

Lo scheletro del capo comprende...

- la scatola cranica e la gabbia toracica.
- la scatola cranica e le ossa della faccia.
- le ossa della faccia e il bacino.

Lo scheletro del tronco comprende...

- la colonna vertebrale e la gabbia toracica.
- la gabbia toracica e le braccia.
- la colonna vertebrale e le braccia.

Lo scheletro degli arti comprende...

- la colonna vertebrale e gli arti superiori.
- il bacino e gli arti inferiori.
- gli arti superiori e gli arti inferiori.

Le ossa dello scheletro si classificano in...

- ossa lunghe, ossa corte e ossa strette.
- ossa lunghe, ossa piatte e ossa brevi.
- ossa lunghe, ossa corte e ossa piatte.

Le ossa delle gambe si chiamano...


- radio, ulna, omero.
- femore, rotula, tibia, perone.
- carpo, metacarpo, falangi.

Le ossa della mano si chiamano...

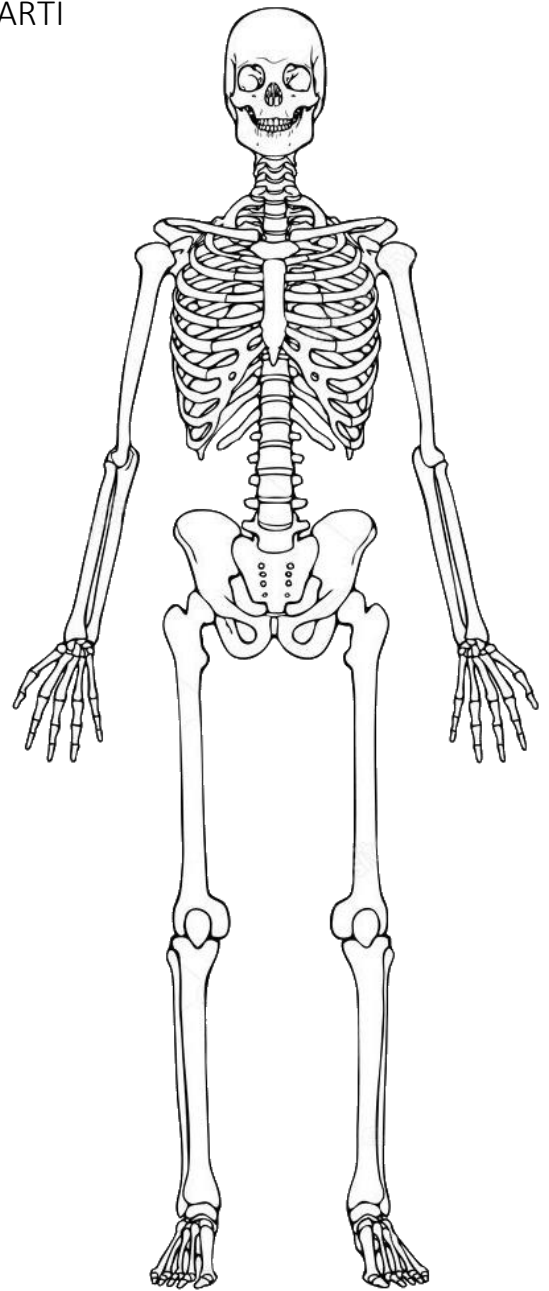
- dito corto e dita lunghe.
- tarso, metatarso, falangi.
- carpo, metacarpo, falangi.


Le ossa della colonna vertebrale sono:

- circa 23.
- circa 33.
- circa 43.

 B. Scrivi il nome delle ossa del cranio che ricordi:

 C. Come si chiama la sostanza che rende flessibili le ossa? _____



 D. Colora lo scheletro umano secondo la legenda.

Legenda

Giallo: ossa del capo

Rosso: ossa del tronco

Verde: ossa degli arti superiori

Blu: ossa degli arti inferiori