

A. Completa le frasi.

Per conservare l'acqua i Sumeri costruivano dei _____.
 Per non fare fuoriuscire l'acqua del fiume durante i periodi di piena i Sumeri innalzavano degli _____.
 Per far passare o fermare le acque del fiume i Sumeri edificavano le _____.
 Per fare giungere lontano le acque fluviali i Sumeri realizzavano i _____.
 Queste tecniche di coltivazione permettevano ai Sumeri di ottenere grandi quantità di _____.

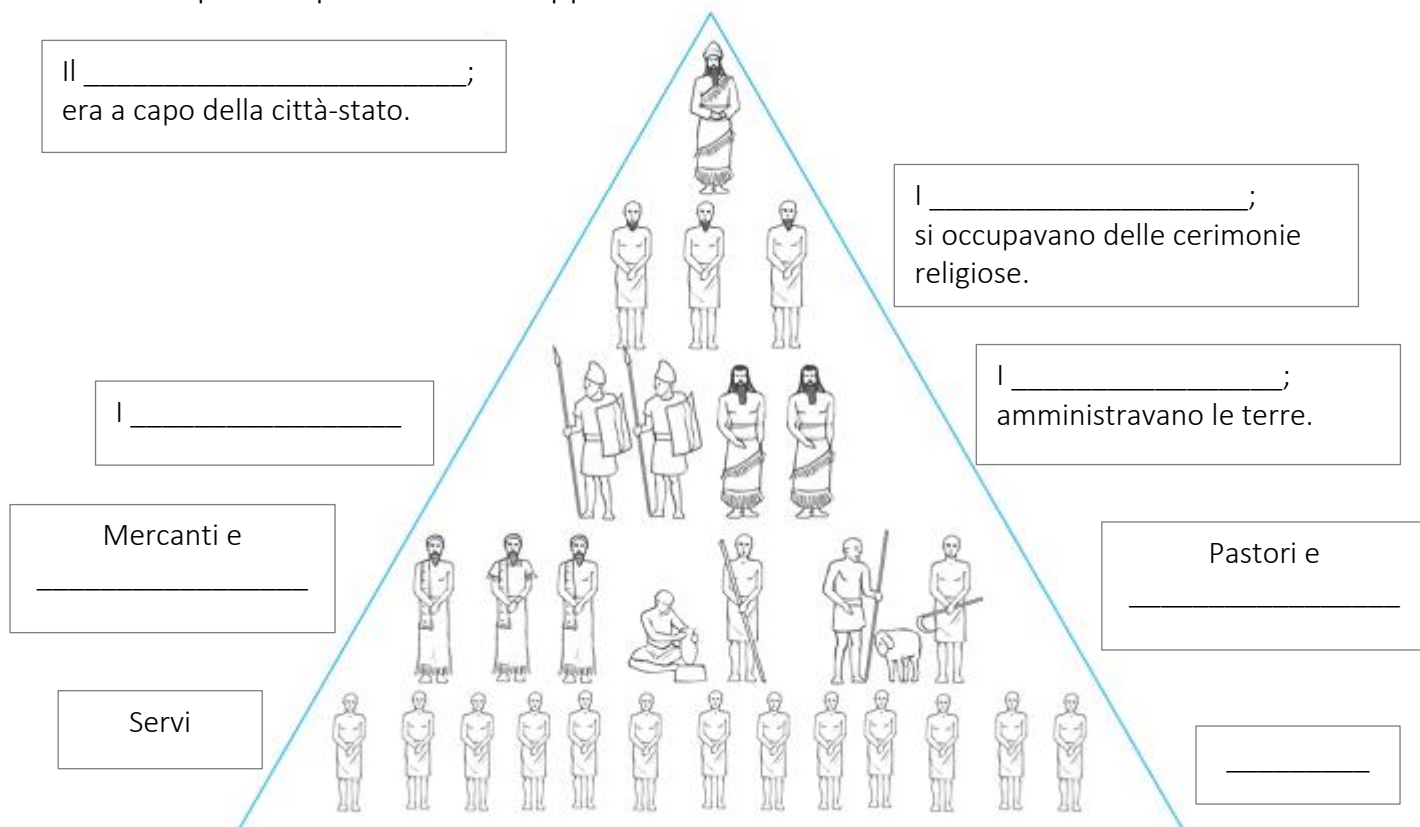
I contadini tenevano per sé _____ del raccolto e il resto lo portavano nei magazzini.

I Sumeri avevano molti dèi; i principali erano Anu, il dio del _____; _____ la dea della terra; Enki il dio dell' _____ e _____ il dio dell'aria. Oltre a queste divinità la letteratura sumera ci ha tramandando l'epopea di _____, un eroe che, dopo aver perso il suo unico amico Enkidu, ha compiuto un grande viaggio per trovare Utnapishtim, sopravvissuto con sua moglie al diluvio universale e diventato immortale.

B. Riscrivi nel posto giusto della tabella le merci che i Sumeri **barattavano** con gli altri popoli: metalli, oggetti in terracotta, lana, pietre preziose, lino, legname.


ESPORTAVANO (vendevano)			IMPORTAVANO (acquistavano)		

C. Completa la piramide che rappresenta la **società dei Sumeri**.




 D. Evidenzia le grandi invenzioni dei Sumeri.

aratro trainato dai buoi	ruota da vasaio	carro con ruote	mattoni
telaio	imbarcazioni con la vela	piroga	misura dell'angolo giro
calendario con anno diviso in 12 mesi	alfabeto	scrittura cuneiforme	

 E. Fai corrispondere con la stessa lettera ogni didascalia alle parti di questo importante edificio sumero e scrivi il suo nome come titolo dell'immagine.

La _____



 F. Leggi il testo seguente e poi scrivi sul quaderno 5 domande pertinenti il testo, da porre a un compagno.

Lo Stendardo di Ur è un reperto sumero trovato a Ur, la città del Dio Luna, in Mesopotamia. Fu rinvenuto nel corso degli scavi archeologici della Necropoli Reale della città, all'interno di una tomba risalente al 2500 a.C. circa. Si tratta di un oggetto fatto a mano, una specie di scatola di legno di 20 cm di altezza e 44 cm di lunghezza con quattro facce, sulle quali degli artigiani sumeri realizzarono un bellissimo intarsio, cioè una specie di mosaico. Lo stendardo di Ur è coloratissimo: lo sfondo blu è fatto di lapislazzuli, mentre le figure sono realizzate in madreperla, conchiglie e calcare rosso. Lo stendardo ha due facce principali che, in base alle decorazioni, sono così chiamate: Il lato della Pace, Il lato della Guerra. Ogni lato è diviso in tre fasce decorate, che si chiamano registri.

CORRETTORE Verifica I quadrimestre Storia - Classe quarta

Prova con 40 item; ogni item vale 2,5 punti per un totale di 100 punti.

A. Completa le frasi.

Per conservare l'acqua i Sumeri costruivano dei **bacini di raccolta**.

Per non fare fuoriuscire l'acqua del fiume durante i periodi di piena i Sumeri innalzavano degli **argini**.

Per far passare o fermare le acque del fiume i Sumeri edificavano le **dighe**.

Per fare giungere lontano le acque fluviali i Sumeri realizzavano i **canali**.

Queste tecniche di coltivazione permettevano ai Sumeri di ottenere grandi quantità di **cereali, ortaggi, legumi, olivi, datteri, lino** (è da considerare item unico e non occorre un elenco completo).

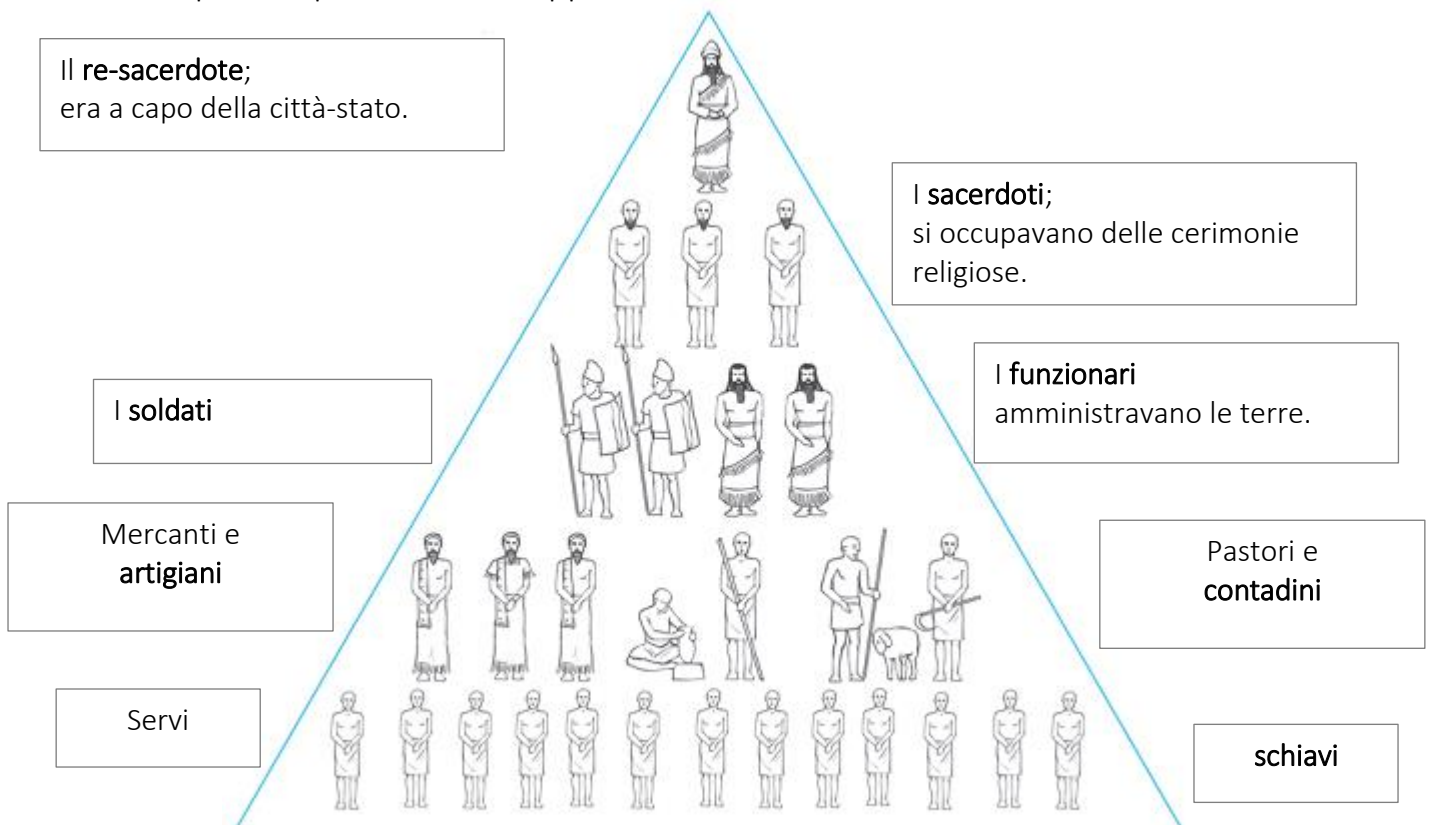
I contadini tenevano per sé **un terzo** del raccolto e il resto lo portavano nei magazzini.

I Sumeri avevano molti dèi; i principali erano Anu, il dio del **cielo**; **Inanna** la dea della terra; Enki il dio dell'**acqua** e **Enlil** il dio dell'aria. Oltre a queste divinità la letteratura sumera ci ha tramandando l'epopea di **Gilgamesh**, un eroe che, dopo aver perso il suo unico amico Enkidu, ha compiuto un grande viaggio per trovare Utnapishtim, sopravvissuto con sua moglie al diluvio universale e diventato immortale.

B. Riscrivi nel posto giusto della tabella le merci che i Sumeri **barattavano** con gli altri popoli: metalli, oggetti in terracotta, lana, pietre preziose, lino, legname.


ESPORTAVANO (vendevano)			IMPORTAVANO (acquistavano)		
lana	lino	oggetti in terracotta	metalli	pietre preziose	legname

C. Completa la piramide che rappresenta la **società dei Sumeri**.




 D. Evidenzia le grandi invenzioni dei Sumeri.

aratro trainato dai buoi	ruota da vasaio	carro con ruote	mattoni
telaio	imbarcazioni con la vela	piroga	misura dell'angolo giro
calendario con anno diviso in 12 mesi	alfabeto	scrittura cuneiforme	

 E. Fai corrispondere con la stessa lettera ogni didascalia alle parti di questo importante edificio sumero e scrivi il suo nome come titolo dell'immagine.

La ziggurat



 F. Leggi il testo seguente e poi scrivi sul quaderno 5 domande pertinenti il testo, da porre a un compagno.

Per la valutazione delle cinque domande considerare valida ogni domanda che sia logica e pertinente il testo letto; gli errori ortografico-sintattici non inficiano la correttezza.