



PROBLEMI NUMERI E OPERAZIONI


 A. Leggi i fumetti e inventa **un** problema con **due** domande.

IL NOSTRO LIBRO DI SCIENZE DI QUARTA È FORMATO DA 6 CAPITOLI DI 12 PAGINE CIASCUNO.

FANTASTICO, HA 15 PAGINE IN PIÙ DI QUELLO DI TERZA!




 B. Sul quaderno scrivi i numeri da 0 a 1.000 **numerando per 25**. Inizio: 0 - 25 - 50 - 75 - 100 ...

 C. Riscrivi i numeri seguenti nella tabella.

	classe delle MIGLIAIA (K)			classe delle UNITÀ SEMPLICI (U)		
	hk	dak	uk	h	da	u
duecentocinquemila settantuno 325.007						
centosedicimila quarantotto 803.406						
cinquecentomila uno 255.680						
quattrocentotrentaseimila 606.606						
centomilacentonove 783.054						

 D. Riscrivi i numeri dell'esercizio C in ordine decrescente (dal più grande al più piccolo).

 E. Esegui in colonna con la prova accanto.

$450 \cdot 677 + 23 \cdot 322 =$ _____	$305 \times 37 =$ _____
$32 \cdot 359 + 147 \cdot 065 + 74 \cdot 509 =$ _____	$462 \times 29 =$ _____
$627 \cdot 472 - 41 \cdot 358 =$ _____	$52 \cdot 256 : 4 =$ _____
$486 \cdot 353 - 125 \cdot 157 =$ _____	$21 \cdot 716 : 6 =$ _____
$594 \cdot 261 - 32 \cdot 386 =$ _____	$126 \cdot 520 : 5 =$ _____