

LE ALPI

⇒ Completa la mappa delle Alpi e utilizzala come ausilio nello studio.

È la più importante

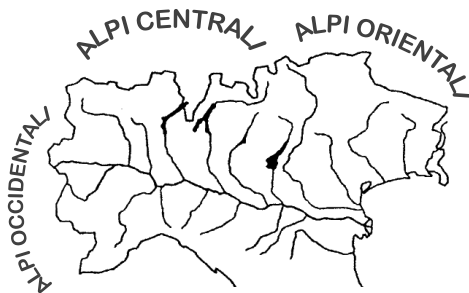
d'Europa.

Il nome viene dal
_____ e
significa _____
o _____.

Segnano il confine

dell'Italia.

Le cime più elevate sono:
1 _____
(4810 m)
2 _____
3 _____
4 _____
5 _____



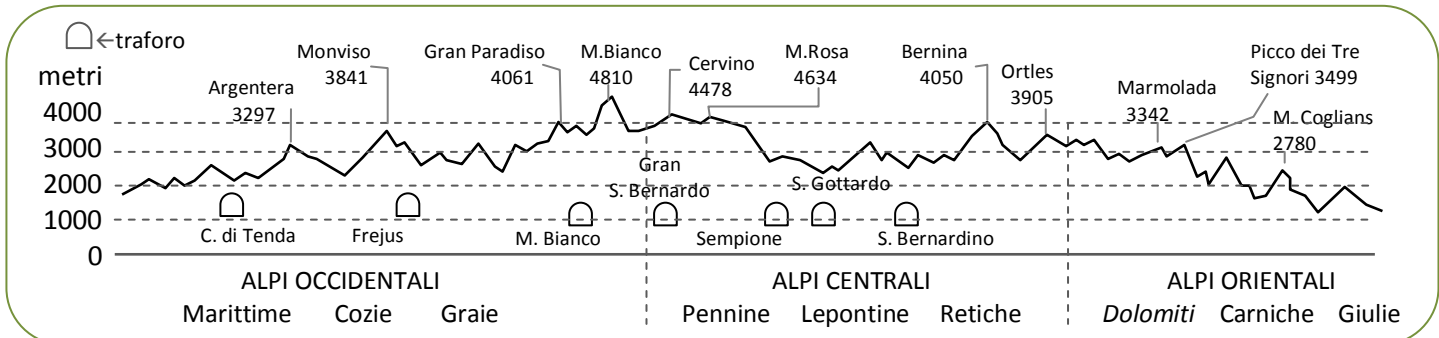
Tradizionalmente
divise in

A occidente scendono
a unirsi agli _____
_____.
A oriente degradano
in Slovenia.

Ai piedi delle Alpi
Centrali e Orientali
ci sono le
_____.

I ghiacciai alpini
originano molti
_____ che
alimentano i laghi
prealpini.

Gli inverni sono
_____,
le estati sono
_____.



<<MA CON GRAN PENA LE RECA GIÙ>>

⇒ Osserva le tabelle illustrate e verbalizzale.

LE ATTIVITÀ SULLE ALPI

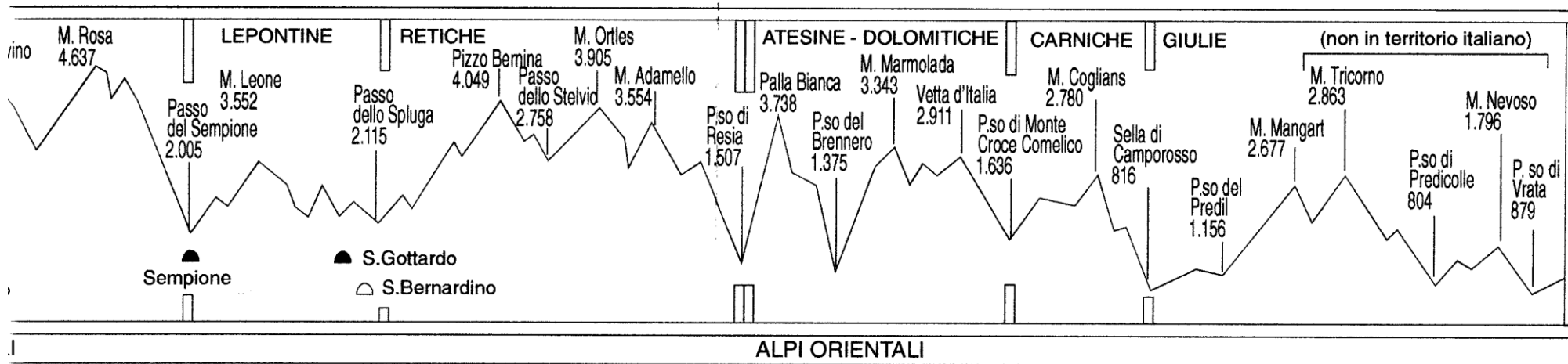
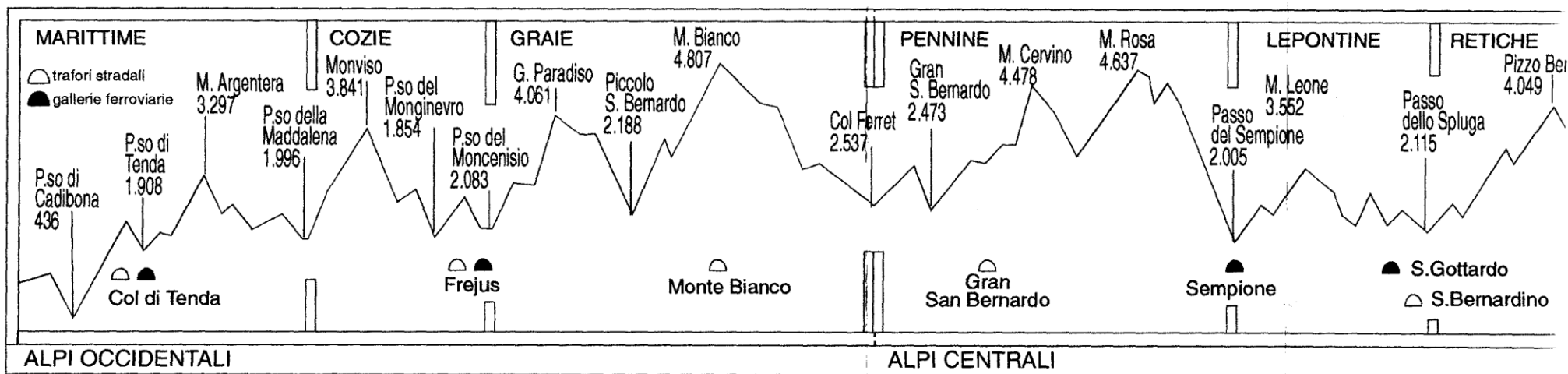
Settore primario
boschi, miniere di ferro, allevamento, agricoltura a fondovalle (viti, alberi da frutto, patate, segale)

Settore secondario
lavorazione del legno, artigianato, industria casearia, industria alimentare e conserviera, industria idroelettrica

Settore terziario
turismo

Parchi: parco del Gran Paradiso, della Val Grande, dello Stelvio, dell'Adamella-Brenta, delle Dolomiti bellunesi.





Per un eventuale cartellone.

Per un eventuale cartellone.

