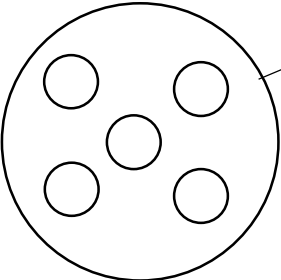


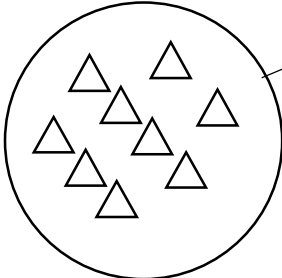
NOME ALUNNO

SEZIONE


A. SCRIVI IL NUMERO DEGLI ELEMENTI O DISEGNA LA QUANTITÀ DI ELEMENTI INDICATA DAL NUMERO.




5 punti



5 punti



5 punti



5 punti

5 punti

5 punti

5 punti

5 punti

B. SCRIVI SULLA LINEA I NUMERI CHE MANCANO.

5 punti

0				4					9
---	--	--	--	---	--	--	--	--	---

C. RISCRIVI I NUMERI NELL'ORDINE INDICATO.

CRESCENTE 5 punti

3	5	6	2	4

DECRESCENTE 7 punti

8	9	5	6	7

D. CONFRONTA GLI INSIEME USANDO I SIMBOLI $>$ $<$ $=$ E SCRIVI IL NUMERO DEGLI ELEMENTI.

SEGUI L'ESEMPIO.

2 5

7 punti

7 punti

7 punti

7 punti

5 punti

E. CONTA GLI ELEMENTI E CERCHIA IL NUMERO GIUSTO.

0 1 2 3 4 5 6 7 8 9

5 punti

0 1 2 3 4 5 6 7 8 9

5 punti

5 punti

ZERO
 UNO
 DUE
 TRE
 QUATTRO
 CINQUE
 SEI
 SETTE
 OTTO
 NOVE

5 punti

ZERO
 UNO
 DUE
 TRE
 QUATTRO
 CINQUE
 SEI
 SETTE
 OTTO
 NOVE