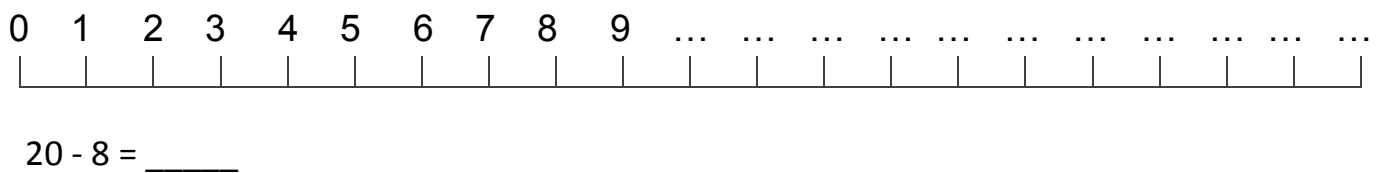
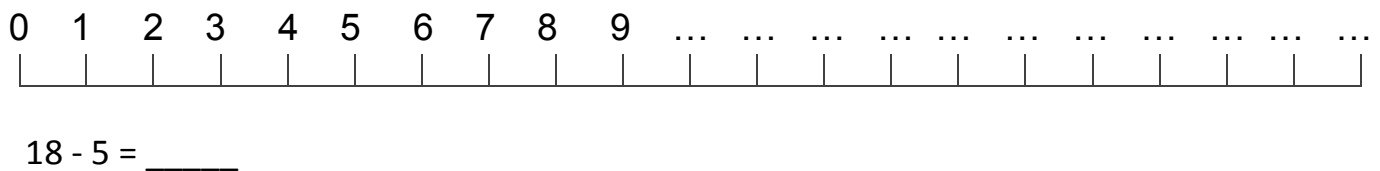
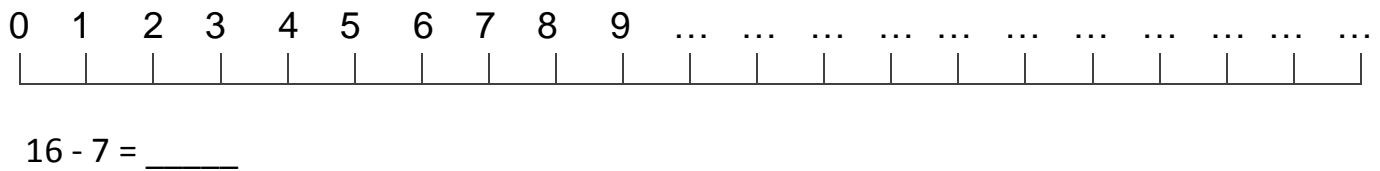
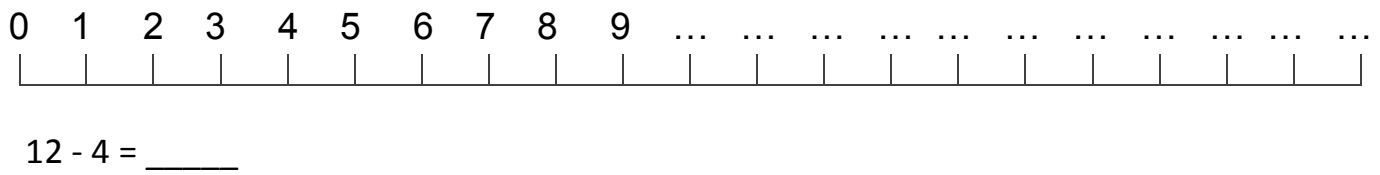
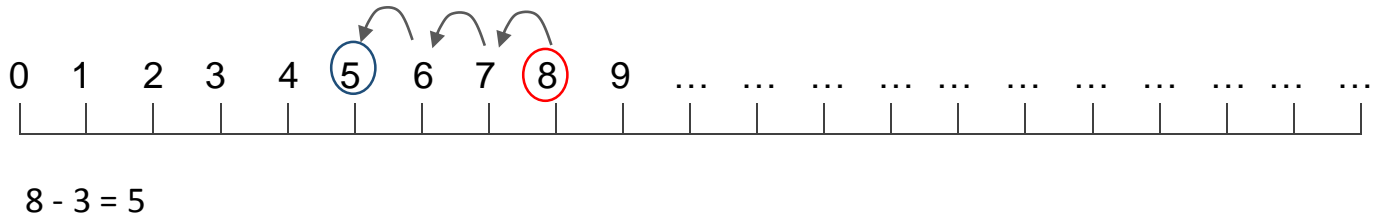




DA CHE PARTE VADO
CON IL SEGNO - ?

SOTTRAZIONI SULLA LINEA DEI NUMERI

COMPLETA LA LINEA DEI NUMERI ED ESEGUI LE SOTTRAZIONI COME NELL'ESEMPIO.



CONTINUA SUL QUADERNO. DISEGNA UNA LINEA DEI NUMERI PER OGNI SOTTRAZIONE!

16 - 5 = ____

10 - 9 = ____

17 - 3 = ____

16 - 15 = ____

9 - 8 = ____

7 - 7 = ____

11 - 6 = ____

14 - 4 = ____

15 - 2 = ____

18 - 8 = ____