

PROBLEMI ILLUSTRATI CON LE ADDIZIONI

 OSSERVA, RAGIONA, CONTA E RISPONDI.

LE MASCHERE



QUANTE MASCHERE DA SPIDERMAN? ____


QUANTE MASCHERE DA FARFALLA? ____

QUANTE MASCHERE IN TUTTO? ____

RISOLVO IL PROBLEMA CON L'OPERAZIONE

$$\underline{\quad} + \underline{\quad} = \underline{\quad}$$

I DOLCI



QUANTI BIGNÈ? ____


QUANTI CORNETTI? ____

QUANTI DOLCI IN TUTTO? ____

RISOLVO IL PROBLEMA CON L'OPERAZIONE

$$\underline{\quad} + \underline{\quad} = \underline{\quad}$$

GLI ANIMALI



QUANTE RANE? ____


QUANTE PAPERE? ____

QUANTI ANIMALI IN TUTTO? ____

RISOLVO IL PROBLEMA CON L'OPERAZIONE

$$\underline{\quad} + \underline{\quad} = \underline{\quad}$$

LE BARCHE



QUANTE BARCHE GRANDI? ____

QUANTE BARCHE PICCOLE? ____

QUANTE BARCHE IN TUTTO? ____

RISOLVO IL PROBLEMA CON L'OPERAZIONE

$$\underline{\quad} + \underline{\quad} = \underline{\quad}$$

 RITAGLIA GLI INSIEMI E SCRIVI I PROBLEMI SUL QUADERNO COME IN QUESTA SCHEDA.

