



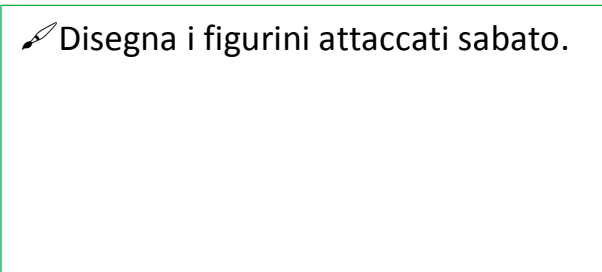
PROBLEMI DA DISEGNARE - 3 -


 Leggi e risolvi i problemi, prima con il disegno e poi con l'operazione giusta.

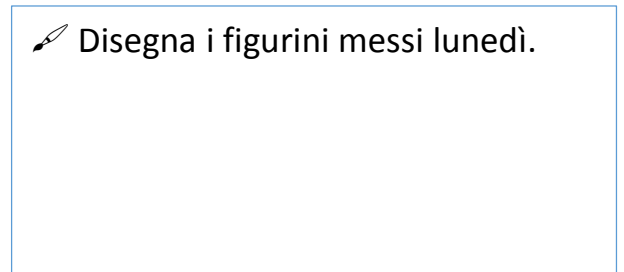
SABATO BENEDETTA HA ATTACCATO 11 FIGURINI SUL SUO ALBUM "AMICI CUCCIOLOTTI".
LUNEDÌ NE HA MESSI ALTRI 3.

QUANTI FIGURINI HA ATTACCATO IN TUTTO BENEDETTA?

 Disegna i figurini attaccati sabato.



 Disegna i figurini messi lunedì.




Risolvi con l'operazione: $\square \bigcirc \square = \square$
Operazione

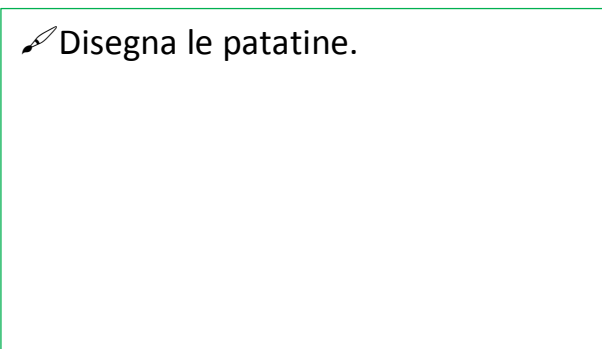
Rispondo: _____




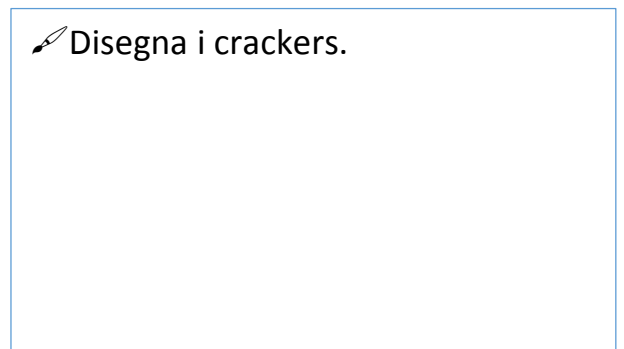
IERI DAVIDE ERA SENZA MERENDA MA I SUOI AMICI SONO CORSI IN AIUTO: ALESSIO GLI HA DATO 8 PATATINE E NICOLÒ 5 CRACKERS.

QUANTE COSE DA MANGIARE HA AVUTO IN TOTALE DAVIDE?

 Disegna le patatine.



 Disegna i crackers.



Risolvi con l'operazione: $\square \bigcirc \square = \square$
Operazione

Rispondo: _____

