

IMPARIAMO VENTI


 RISCIRVI SUL QUADERNO TANTE VOLTE.

20 VENTI venti *venti*


 CONTA LE PALLINE E RISPONDI.

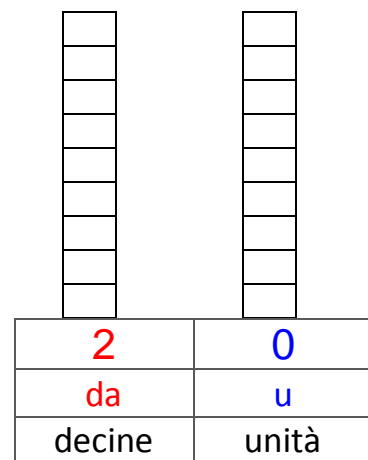



QUANTE PALLINE SONO? _____


 RAGGRUPPA LE PALLINE PER 10 E REGISTRA IL NUMERO IN TABELLA.

da	u
decine	unità

 RAPPRESENTA 20 CON L'ABACO COLORANDO DI ROSSO LA CASELLA DELLE DECINE E DI BLU QUELLA DELLE UNITÀ.



 RISCIRVI IN ORDINE CRESCENTE.
18, 2, 20, 4, 9, 13, 5, 0, 6, 15





 RISCIRVI IN ORDINE DECRESCENTE.
7, 14, 3, 19, 12, 1, 20, 6, 10, 16



☺ ECCO IL NUMERO ORDINALE: VENTESIMO 20° - VENTESIMA 20ª

 COLPISCI ANCHE IL SESTO, IL TREDICESIMO E IL VENTESIMO BERSAGLIO.



 ADDIZIONI IN TABELLA. 

 +		6		 +		7		8
11				10				
4		16		12				
 +		13		 +		13		9
5				7				
				3				

 SUL TUO QUADERNO COPIA ED ESEGUI QUESTE ADDIZIONI. 

8 + 10 = _____

16 + 4 = _____

.....

3 + 9 + 5 = _____

11 + 4 + 5 = _____

2 + 16 + 1 = _____

14 + 2 + 2 = _____

8 + 4 + 8 = _____