


## IMPARIAMO QUINDICI


 RISCIRVI SUL QUADERNO TANTE VOLTE.

15 QUINDICI quindici *quindici*


 CONTA LE PALLINE E RISPONDI.



QUANTE PALLINE SONO? \_\_\_\_\_

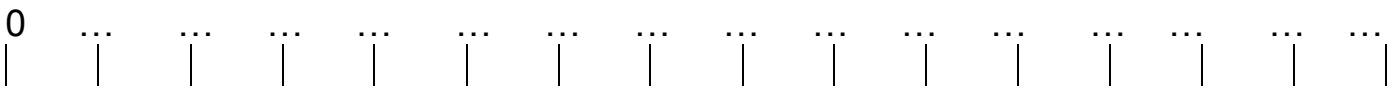
 RAGGRUPPA LE PALLINE PER 10 E REGISTRA IL NUMERO IN TABELLA.

da	u
decine	unità

 RAPPRESENTA 15 CON L'ABACO COLORANDO DI ROSSO LA CASELLA DELLE DECINE E DI BLU QUELLA DELLE UNITÀ.

1	5
da	u
decine	unità


 COMPLETA LA LINEA DEI NUMERI FINO A 15



☺ ECCO IL NUMERO ORDINALE: QUINDICESIMO 15° - QUINDICESIMA 15ª

 COLORA LA QUINTA AUTOMOBILINA E IL 15° GATTO.



 SUL TUO QUADERNO ESEGUI QUESTE ADDIZIONI SULLA LINEA DEI NUMERI. DISEGNA TU OGNI LINEA!


$$6 + 7 = \underline{\quad}$$

$$3 + 9 = \underline{\quad}$$

$$8 + 6 = \underline{\quad}$$

$$5 + 10 = \underline{\quad}$$

$$11 + 3 = \underline{\quad}$$

 SUL TUO QUADERNO COPIA ED ESEGUI QUESTE ADDIZIONI CONTANDO CON LE DITA.

$$10 + 5 = \underline{\quad}$$

$$7 + 7 = \underline{\quad}$$

$$6 + 8 = \underline{\quad}$$

$$9 + 6 = \underline{\quad}$$

$$11 + 4 = \underline{\quad}$$

