

IMPARIAMO QUATTORDICI


 RISCIRVI SUL QUADERNO TANTE VOLTE.

14 QUATTORDICI quattordici *quattordici*


 CONTA LE PALLINE E RISPONDI.



QUANTE PALLINE SONO? _____

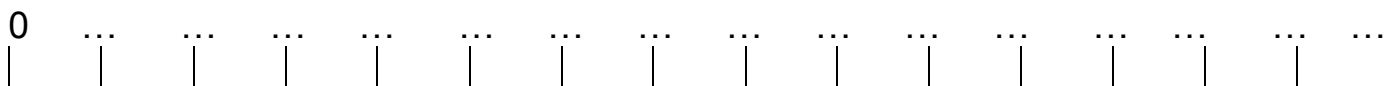
 RAGGRUPPA LE PALLINE PER 10 E REGISTRA IL NUMERO IN TABELLA.

da	u
decine	unità

 RAPPRESENTA 14 CON L'ABACO COLORANDO DI ROSSO LA CASELLA DELLE DECINE E DI BLU QUELLA DELLE UNITÀ.

1	4
da	u
decine	unità


 COMPLETA LA LINEA DEI NUMERI FINO A 14



😊 ECCO IL NUMERO ORDINALE: QUATTORDICESIMO 14° - QUATTORDICESIMA 14ª

 COLORA IL QUATTORDICESIMO UCCELLINO E LA 12ª STELLA.



 SUL TUO QUADERNO ESEGUI QUESTE ADDIZIONI SULLA LINEA DEI NUMERI. DISEGNA TU OGNI LINEA!


$$5 + 6 = \underline{\quad}$$

$$4 + 8 = \underline{\quad}$$

$$7 + 5 = \underline{\quad}$$

$$6 + 7 = \underline{\quad}$$

$$10 + 3 = \underline{\quad}$$

 SUL TUO QUADERNO COPIA ED ESEGUI QUESTE ADDIZIONI CONTANDO CON LE DITA.

$$5 + 9 = \underline{\quad}$$

$$4 + 10 = \underline{\quad}$$

$$12 + 2 = \underline{\quad}$$

$$8 + 5 = \underline{\quad}$$

$$7 + 6 = \underline{\quad}$$

