

# IMPARIAMO DICIANNOVE


 RISCIRVI SUL QUADERNO TANTE VOLTE.

19 DICIANNOVE diciannove *diciannove*


 CONTA LE PALLINE E RISPONDI.

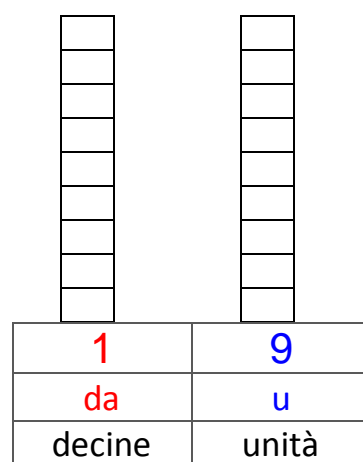



QUANTE PALLINE SONO? \_\_\_\_\_


 RAGGRUPPA LE PALLINE PER 10 E REGISTRA IL NUMERO IN TABELLA.

da	u
decine	unità

 RAPPRESENTA 19 CON L'ABACO COLORANDO DI ROSSO LA CASELLA DELLE DECINE E DI BLU QUELLA DELLE UNITÀ.

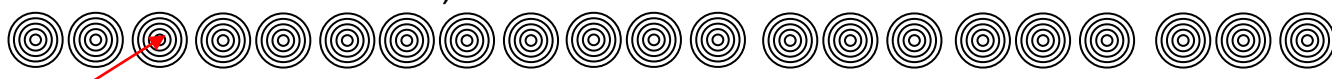


 RISCIRVI IN ORDINE CRESCENTE.  
16, 3, 8, 14, 19, 17, 8, 7, 15, 11  
\_\_\_\_\_

 RISCIRVI IN ORDINE DECRESCENTE.  
6, 19, 13, 9, 5, 1, 14, 12, 16, 10  
\_\_\_\_\_





☺ ECCO IL NUMERO ORDINALE: DICIANNOVESIMO 19° - DICIANNOVESIMA 19ª


 COLPISCI ANCHE IL SESTO, IL DODICESIMO E IL DICIANNOVESIMO BERSAGLIO.



 ADDIZIONI IN TABELLA.



 +		4		 +		4		5
13				10				
5		14		14				
 +		11		 +		11		12
8				7				
				5				

 SUL TUO QUADERNO COPIA ED ESEGUI QUESTE ADDIZIONI.

6 + 11 = \_\_\_\_\_  
14 + 5 = \_\_\_\_\_

.....  
4 + 4 + 7 = \_\_\_\_\_  
6 + 10 + 3 = \_\_\_\_\_  
12 + 6 + 1 = \_\_\_\_\_  
11 + 2 + 4 = \_\_\_\_\_  
5 + 7 + 3 = \_\_\_\_\_

