

## LA STRADA

Anticamente l'uomo, per spostarsi da un luogo all'altro, percorreva sentieri occasionali **in terra battuta**, formati dagli animali o modellati dal cammino di altri viandanti. Quando però in Mesopotamia nel V secolo a.C. fu inventata la ruota, si rese necessario "ideare" un percorso più lineare e scorrevole possibile. Nacque così la STRADA.

I Greci costruivano strade coprendo la terra di **lastre** di pietra e lasciando ai lati dei solchi dove si incanalavano le ruote dei carri, come in un binario.


I Romani perfezionarono la tecnica di costruzione della strada facendo in modo che essa non si rovinasse facilmente, resistesse al tempo e ai continui passaggi di ruote, cavalli e pedoni. Prima scavavano un fossato. Poi lo riempivano di pietra e sabbia, tenute insieme da calcina, fino a raggiungere il livello del terreno circostante.

Dopo rivestivano questo strato con grosse **lastre** di pietra poligonali incastrate perfettamente tra loro; gli interstizi venivano riempiti con brecciolina.


Insomma, le vie erano fatte a **strati**...e da questa tecnica a "strati" viene appunto il nome **STRADA**.

Le strade romane erano larghe dai 4 ai 6 metri, così tanto da poter far incrociare due carri senza rischio di vederli incastrati tra loro!

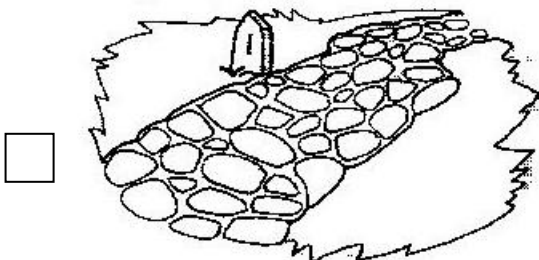
1. Collega ogni definizione all'immagine corrispondente; poi sistema in ordine cronologico l'invenzione dei tre tipi di strade, numerandole a partire dalla più antica.



STRADA IN TERRA BATTUTA




STRADA LASTRICATA




STRADA ASFALTATA

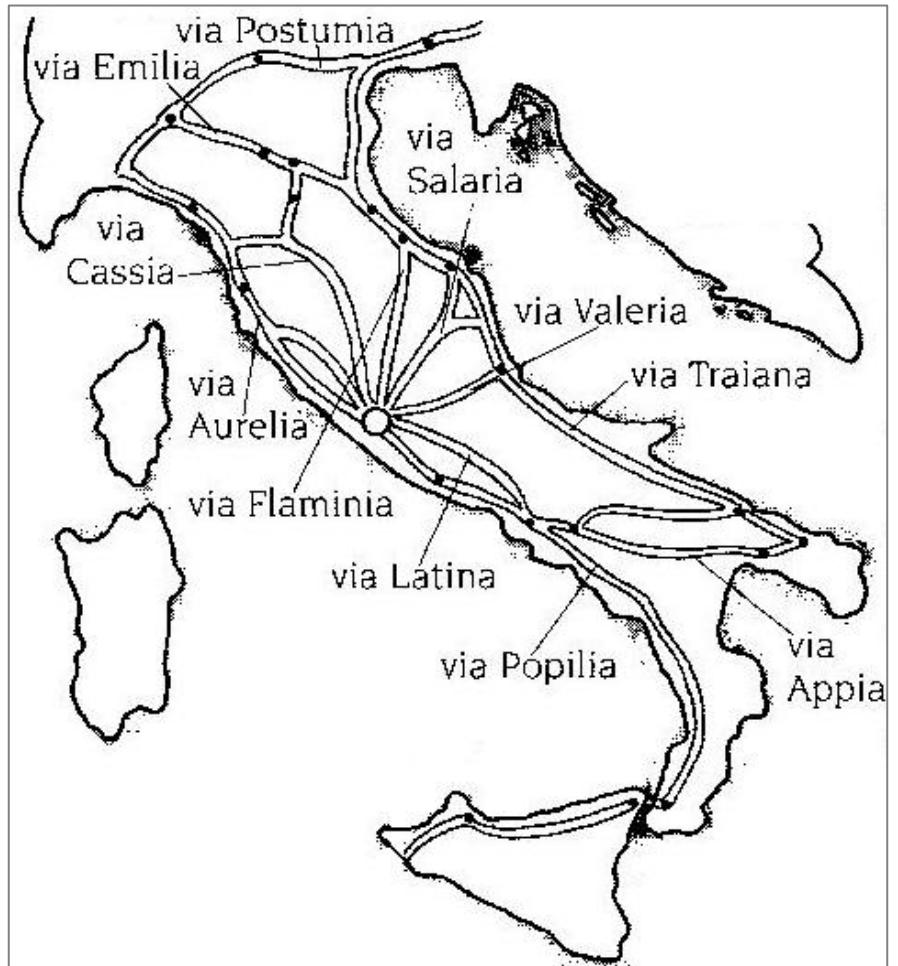
2. Aiuta questo centurione della Roma imperiale a scegliere i materiali di cui ha bisogno per formare i vari strati della strada.

- |                          |         |                          |                  |
|--------------------------|---------|--------------------------|------------------|
| <input type="checkbox"/> | Farina  | <input type="checkbox"/> | Sabbia           |
| <input type="checkbox"/> | Pietre  | <input type="checkbox"/> | Letame           |
| <input type="checkbox"/> | Calcina | <input type="checkbox"/> | Lastre di pietra |
| <input type="checkbox"/> | Ferro   | <input type="checkbox"/> | Brecciolina      |



3.  Colora le strade romane più importanti e, con l'aiuto di una carta politica dell'Italia, scrivi nell'elenco le città dell'Impero che esse collegavano.

- ◆ Via Emilia  
da .....
- a .....
- ◆ Via Cassia  
da .....
- a .....
- ◆ Via Salaria  
da .....
- a .....
- ◆ Via Aurelia  
da .....
- a .....
- ◆ Via Flaminia  
da .....
- a .....



- ◆ Via Traiana: da ..... a .....
- ◆ Via Appia: da ..... a .....