





## NOMI PRIMITIVI E NOMI DERIVATI

☺ Leggi e impara: sono **nomi primitivi** tutti quelli formati solamente da **radice** e **desinenza**.

La radice è quella parte del nome che non cambia; la desinenza è quella parte del nome che indica il genere e il numero.

Osserva → **libr**-o  **libr**-i  :cambia il numero, non il significato!

Sono derivati i nomi formati dalla **radice**, da un pezzo che si chiama **suffisso** o **prefisso** e dalla **desinenza**.

Osserva → **libr**-o  **libr**-eri-a  : cambia il significato!

A. Evidenzia in giallo la radice del nome primitivo e scrivi i due nomi derivati che puoi formare con i suffissi dati.

latte	giorno	cavallo
[ -eria      -ante ] _____ _____	[ -ale      -alaio ] _____ _____	[ -iere      -cata ] _____ _____
vento	mare	porta
[ -aglio -ilatore ] _____ _____	[ -inaio -eggiata ] _____ _____	[ -iere      -ale ] _____ _____

B. Scrivi il nome primitivo di ogni famiglia di nomi derivati.

	panificio	panineria	panettiere	pagnotta
	cartella	cartiera	cartolaio	cartolina
	viandante	viadotto	viale	deviazione
	muraglia	muratore	murata	muratura
	pastificio	pastiera	pastaio	pastella

C. Scrivi almeno un nome derivato per ogni nome primitivo dato.

Cane _____	Posta _____
Gioco _____	Scarpa _____
Barca _____	Pesce _____
Dente _____	Regola _____
Farmaco _____	Re _____
Scia _____	Ombra _____

D. Riscrivi in ordine alfabetico i nomi primitivi dell'esercizio C.