




Le classificazioni

 Osserva gli insiemi, rispondi e completa.


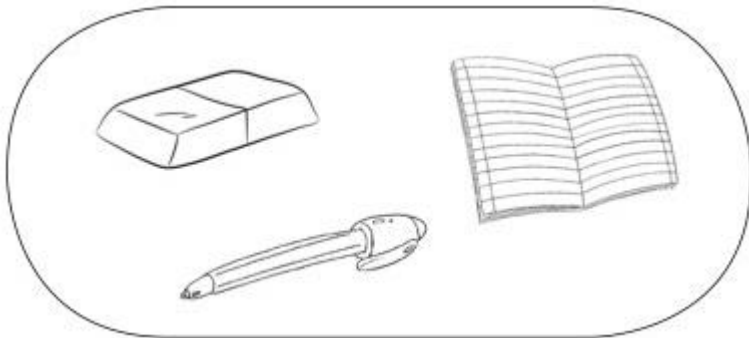


Questo è un insieme di _____

La sua proprietà: tutti animali che _____.

L'elefante può entrare nell'insieme? Sì No

L'uccellino può entrare nell'insieme? Sì No





Questo è un insieme di _____


La sua proprietà: tutti oggetti che _____.

Il frullatore può entrare nell'insieme? Sì No

Il libro può entrare nell'insieme? Sì No

 In ogni insieme elimina l'intruso e poi definisci l'insieme.




 Sul tuo quaderno forma l'insieme dei nomi dei giorni della settimana; forma l'insieme dei nomi delle stagioni; forma l'insieme delle figure geometriche che hanno più di tre lati.

I quantificatori

L'acquario di Tino

Tino ha ricevuto in regalo un acquario con tanti pesci.

✍ Colora seguendo le indicazioni.



- Tutta la sabbia è gialla.
- Qualche pesce è rosso.
- Almeno due pesci sono a righe.
- Nessun pesce è verde.
- Alcuni pesci hanno le pinne azzurre.
- Tutti i sassi sono grigi.
- Nessuna alga è rossa.
- Non tutte le anfore sono marroni.
- Poche bollicine sono blu.