
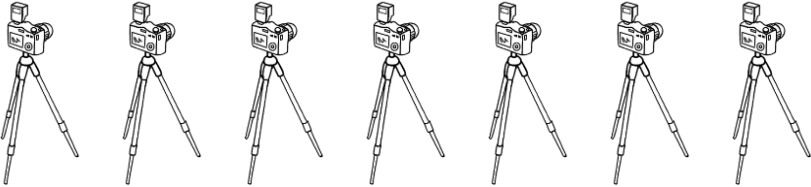







A gruppi di tre o a gruppi di quattro

✎ Osserva i disegni e completa la tabella.

	Quanti tricicli? _____	Quante ruote in tutto? _____
	Quanti cavalletti da fotografo? _____	Quante zampe in tutto? _____
	Quanti cavalletti da pittore? _____	Quante zampe in tutto? _____
	Quanti draghi con 3 teste? _____	Quante teste in tutto? _____
	Quanti Little Green Man? _____	Quanti occhi in tutto? _____
	Quanti cavalli? _____	Quante zampe in tutto? _____
	Quanti Stich? _____	Quante braccia in tutto? _____

✎ Leggi con attenzione le domande e rispondi.

1. Cinque automobili quante **ruote** hanno in tutto? _____
2. Tre mucche quante **zampe** hanno in tutto? _____
3. Sei galline quante **zampe** hanno in tutto? _____
4. Sette cani quante **zampe** hanno in tutto? _____
5. Nove bambini quanti **occhi** hanno in tutto? _____
6. Otto tricicli quante **ruote** hanno in tutto? _____