

Calcola in colonna.

da	u
3	9
1	1

 $+$ 

da	u
2	2
1	8

 $+$ 

da	u
3	4
1	2

 $+$ 

da	u
1	8
3	4

 $+$ 

da	u
2	9
5	0

 $=$ 

Calcola in colonna.

da	u
4	5
1	5

 $-$ 

da	u
3	5
2	6

 $-$ 

da	u
7	2
2	1

 $-$ 

da	u
5	8
3	4

 $-$ 

da	u
5	0
2	2

 $=$ 

SEGNA CON UNA X LE RISPOSTE ESATTE.

1. Diego possiede 19 figurine e ne regala 7 al suo compagno di banco. Quante figurine gli sono rimaste?


- A. 12
- B. 9
- C. 6

2. Quale frase corrisponde alla seguente scrittura?

$50 > 20$
-----------


- A. Cinquanta è maggiore di venti
- B. Venti è maggiore di cinquanta
- C. Cinquanta è minore di venti

3. Quali numeri sono maggiori di 21?



- A. 28 - 22 - 25
- B. 19 e 20
- C. 28 - 19 - 22

4. Come puoi definire questo insieme?



- A. Animali con 4 zampe  
 B. Animali  
 C. Animali marini

5. In un ristorante ci sono 11 persone. Dopo un'ora arrivano altre 8 persone e dopo mezz'ora 4 se ne vanno. Quante persone sono rimaste nel ristorante?

- A. 15  
 B. 11  
 C. 18

6. Qual è il giusto ordine decrescente (dal più grande al più piccolo) dei seguenti numeri?


18      2      93      90      77      4      69

- A. 2   18   4   77   69   90   93  
 B. 93   90   18   69   77   2   4  
 C. 93   90   77   69   18   4   2

7. Quale numero è il precedente di 71 e il successivo di 69?

- A. 68  
 B. 72  
 C. 70

8. La famiglia di Riccardo parte per le vacanze. Traccia il percorso che percorre. Dove trascorrerà le vacanze?

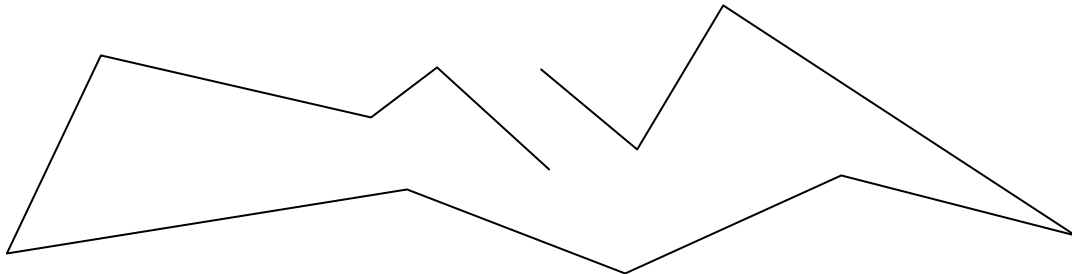


A. In montagna

B. Al lago

C. Al mare

9. Come puoi definire questa linea?



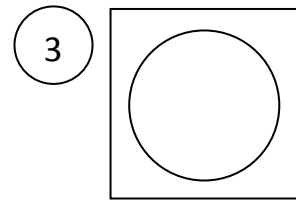
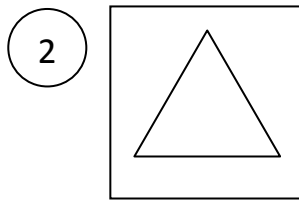
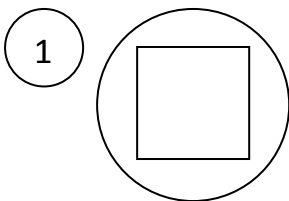
A. Linea spezzata chiusa

B. Linea retta

C. Linea spezzata aperta

10. Quale figura corrisponde alla seguente descrizione?

“È un cerchio dentro un quadrato”



A. Figura numero 1

B. Figura numero 2

C. Figura numero 3