

1. Anna abita nella casetta con il numero coperto dalla macchia.






Scopri qual è.

- A. 14
- B. 15
- C. 18

2. Elena ha raccolto 18 conchiglie al mattino e 13 il pomeriggio. Quante conchiglie ha ora Elena?

Risposta:

3. Osserva la seguente tabella.

	A	B	C
1			
2			
3			

Il sole si trova nella casella:

- A. (A, 1)
- B. (B, 3)
- C. (C, 1)

4. Il maestro ha 3 scatole da 8 matite ciascuna e regala una matita ad ognuno dei suoi 22 alunni.

Al maestro

- A. non restano matite
- B. resta una matita
- C. restano due matite

5. Quale delle seguenti scritte corrisponde a «cento è maggiore di cinquanta»?

- A. $100 < 50$
- B. $100 = 50$
- C. $100 > 50$

6. Marco ha sistemato le sue conchiglie in una scatola con 6 scomparti. In ogni scomparto ha messo 3 conchiglie.







Quale dei seguenti calcoli per trovare il numero delle conchiglie è sbagliato?

- A. $6 + 3$
- B. 3×6
- C. $3 + 3 + 3 + 3 + 3 + 3$

7. Al Luna Park vince chi colpisce la mano destra di un pagliaccio. Anna prende la mira e lancia la pallina quattro volte.

Indica per ogni figura se Anna ha colpito la mano destra del pagliaccio.

	Si	No
a) 	<input type="checkbox"/>	<input type="checkbox"/>
b) 	<input type="checkbox"/>	<input type="checkbox"/>
c) 	<input type="checkbox"/>	<input type="checkbox"/>
d) 	<input type="checkbox"/>	<input type="checkbox"/>

8. Osserva il riquadro: $17 + 46 = 60 + 3$ Perché quello che è scritto nel riquadro è corretto?

- A. Perché ci sono due numeri a destra e due a sinistra del segno di uguale
- B. Perché il risultato della prima addizione è uguale al risultato della seconda addizione
- C. Perché 60 è il risultato di $17 + 46$

9. Andrea, Marco e Luca giocano a figurine. Luca ha 13 figurine più di Andrea. Marco ha 12 figurine più di Luca.

Chi ha più figurine?

- A. Andrea
- B. Marco
- C. Luca

10.

Osserva la barchetta.

In tutto i triangoli sono:

- A. 3
- B. 5
- C. 7

