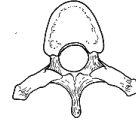
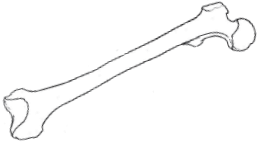


L'APPARATO LOCOMOTORE

A. Completa il testo a buchi.

L'apparato locomotore è formato dal sistema _____, dalle _____ e dal sistema muscolare.

Le ossa di un adulto sono circa _____. Se ne distinguono tre tipi: (scrivi il nome del tipo di osso raffigurato)



La spina dorsale è formata da 33 _____.

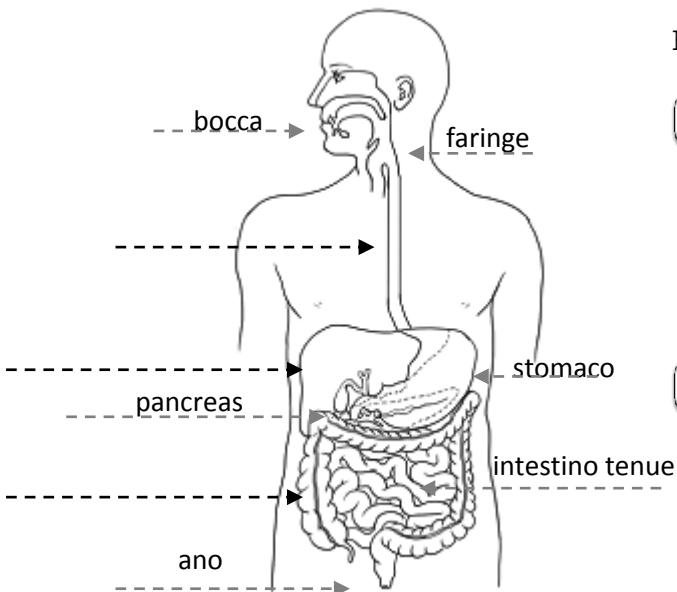
Il punto di contatto tra le ossa si chiama _____.

Queste possono essere mobili, _____ e _____.

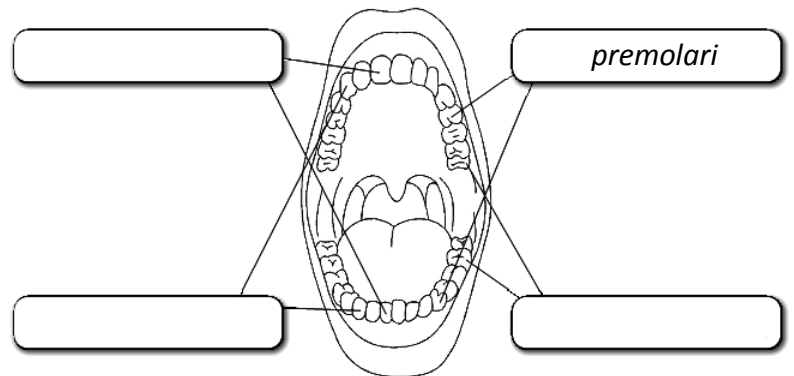
In tutti i nostri movimenti utilizziamo i muscoli. Essi si distinguono in muscoli _____ con tessuto striato e muscoli _____ con tessuto liscio. Il cuore è un muscolo particolare perché è di tipo _____ con tessuto _____.

L'APPARATO DIGERENTE

B1. Scrivi il nome delle parti dell'apparato digerente indicate.



B2. Scrivi i nomi dei denti indicati.



L'APPARATO RESPIRATORIO

C. Scrivi un breve testo informativo sull'apparato respiratorio indicando **dove si trova, da cosa è formato, qual è la sua funzione.**

