

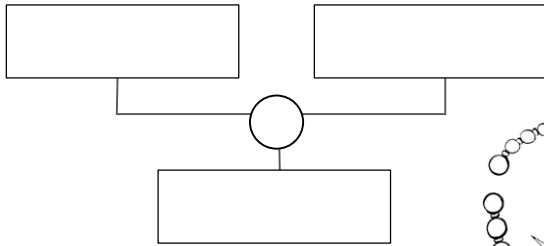
COMPRAVENDITA PROBLEMATICA

A. Leggi i problemi, scrivi nel diagramma a blocchi la **formula risolutiva**, scrivi in riga l'**operazione** e la **rispostina**.

Il gioielliere

Per confezionare delle collane un gioielliere ha acquistato perle, coralli, turchesi e clips d'oro; ha venduto le sue collane ricavando € 689,90 con un guadagno di € 321,60.

Quanto aveva speso per il materiale?



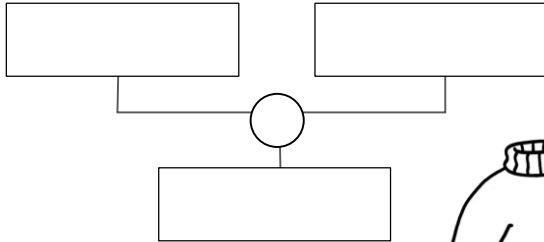
$$\boxed{} = $$

rispostina _____

La maglierista

Una maglierista ha comperato 20 gomitoli di lana pregiata per confezionare dei maglioni, spendendo € 365,70. Dalla vendita dei maglioni ha guadagnato € 259,80.

Quanti Euro ha incassato?

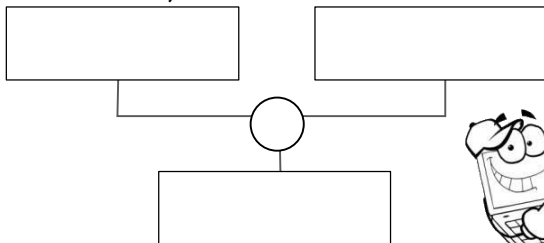


$$\boxed{} = $$

rispostina _____

Computer... vecchi

In un negozio di informatica sono stati messi in vendita alcuni vecchi notebook che erano costati al venditore € 2 685,00. Il venditore ha ricavato dalla vendita € 2 120,00. **Ha avuto un guadagno o una perdita? E di quanto?**



$$\boxed{} = $$

rispostina _____

B. Risolvi sul quaderno

Smartphone

Ho comperato uno Smartphone di ultima generazione che mi è costato € 680,00. Non mi piaceva perciò l'ho rivenduto sottocosto con una perdita di € 120,00.

Quanto ho ricavato dalla vendita?

