

ALUNNO _____ CLASSE _____

A. Leggi il testo, sottolinea di blu i dati e di rosso la domanda.

Nello stabilimento balneare dove Alessandro ha trascorso le vacanze ci sono 36 ombrelloni distribuiti su 4 file. Quanti ombrelloni ci sono su ogni fila?

B. Scegli l'operazione da eseguire.
 + - x :

C. Esegui l'operazione in riga: _____

D. Scrivi la risposta: _____

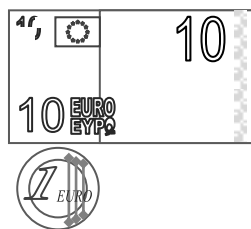
E. LA SPESA

✓ Osserva il disegno e leggi il fumetto.



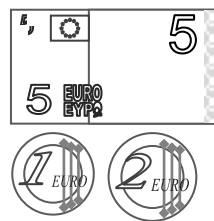
1. Calcola quanto possiede ciascuna signora.

ELEONORA



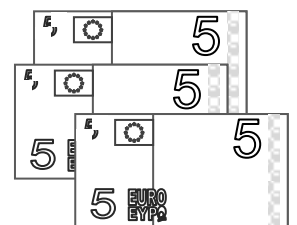
tot. € _____

ILENIA



tot. € _____

CHIARA



tot. € _____

2. Ora rispondi alle domande.

✓ Quale signora può pagare la spesa? _____

✓ Perché le altre due signore non possono pagare? _____

F. Calcola in colonna.

275 x 16 = _____
 103 x 21 = _____
 340 x 18 = _____
 462 x 17 = _____

G. Calcola in colonna con la prova accanto.

7·380 - 4·156 = _____
 1·962 : 6 = _____
 1·112 : 4 = _____