



LE SOTTRAZIONI ILLUSTRATE

 Osserva, leggi, scrivi i dati, esegui la sottrazione e rispondi alla domanda.

Conta le candele in tutto e toglì quelle spente. Quante candele accese restano?



CANDELE IN TUTTO →


CANDELE SPENTE →

CANDELE ACCESE →

___ - ___ = ___

Rispondo → Restano _____ candele accese.

Conta i bambini in tutto e toglì quelli tristi. Quanti bambini allegri restano?



BAMBINI IN TUTTO →


BAMBINI TRISTI →

BAMBINI ALLEGRI →

___ - ___ = ___

Rispondo → Restano _____ bambini allegri.

Conta i vagoni in tutto e toglì quelli vuoti. Quanti vagoni pieni restano?



VAGONI IN TUTTO →

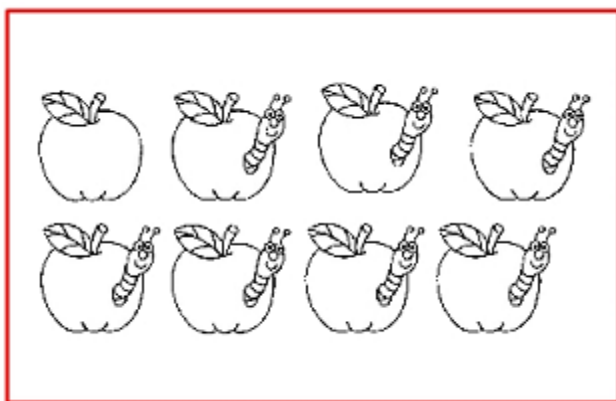
VAGONI VUOTI →

VAGONI PIENI →

___ - ___ = ___

Rispondo → Restano _____ vagoni pieni.

Conta le mele in tutto e toglie quelle con il verme. Quante mele senza verme restano?



MELE IN TUTTO →


MELE CON VERME →

MELE SENZA VERME →

___ - ___ = ___

Rispondo → Restano _____ mele senza verme.

Conta i fiori in tutto e toglie quelli caduti. Quanti fiori restano?



FIORI IN TUTTO →


FIORI CADUTI →

FIORI NEL VASO →

___ - ___ = ___

Rispondo → Restano _____ fiori, contenuti nel vaso.

Conta gli orsi in tutto e toglie quelli con il cappello. Quanti orsi senza cappello restano?



ORSI IN TUTTO →

ORSI CON CAPPELLO →

ORSI SENZA CAPPELLO →

___ - ___ = ___

Rispondo → Restano _____ orsi senza cappello.

Continua tu a inventare e scrivere sul tuo quaderno problemi illustrati per risolvere i quali usi la sottrazione.