


SCOMPONGO E RICOMPONGO I NUMERI, ESEGUO OPERAZIONI

 Indica da quante decine e da quante unità sono composti i seguenti numeri.

16 → _____ da e _____ u

4 → _____ da e _____ u

10 → _____ da e _____ u

15 → _____ da e _____ u

6 → _____ da e _____ u

21 → _____ da e _____ u

11 → _____ da e _____ u


20 → _____ da e _____ u

14 → _____ da e _____ u

2 → _____ da e _____ u

12 → _____ da e _____ u

17 → _____ da e _____ u

 Scrivi i numeri che corrispondono a queste decine e unità.

da 0 u 1 → _____

da 0 u 6 → _____

da 0 u 8 → _____

da 2 u 0 → _____

da 1 u 3 → _____

da 1 u 0 → _____

da 2 u 1 → _____


da 2 u 5 → _____

da 0 u 5 → _____

da 0 u 4 → _____

da 1 u 4 → _____

da 1 u 2 → _____

 Scrivi in cifra questi numeri espressi in lettere.

tredici _____


sette _____

sedici _____

quindici _____

diciannove _____

dodici _____

 Esegui velocemente calcolando con le dita e applicando tutti i trucchi che hai imparato.

$15 + 4 = \underline{\quad}$

$13 - 10 = \underline{\quad}$

$12 + 7 = \underline{\quad}$

$18 - 10 = \underline{\quad}$

$10 + 6 = \underline{\quad}$

$19 - 5 = \underline{\quad}$

$3 + 15 = \underline{\quad}$

$16 - 7 = \underline{\quad}$

$6 + 14 = \underline{\quad}$

$14 - 4 = \underline{\quad}$