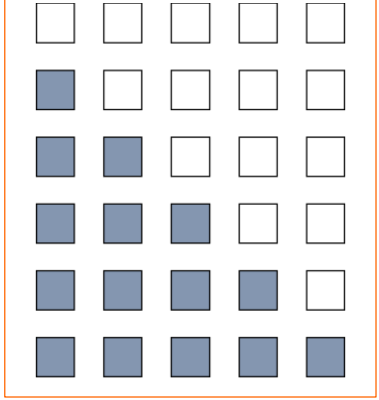


## A CASA DEL 5

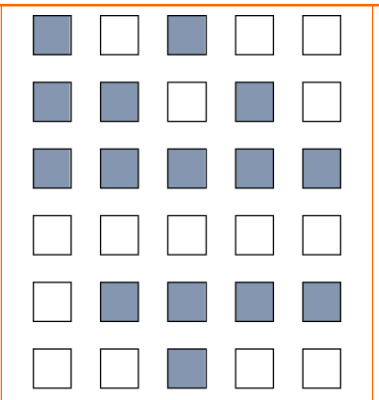
 OSSERVA LE FINESTRE ACCESE  O SPENTE  E COMPLETA COME NEGLI ESEMPI.

5












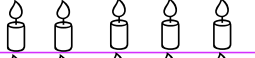








<input checked="" type="checkbox"/>	<input type="checkbox"/>
0	5


5



<input checked="" type="checkbox"/>	<input type="checkbox"/>
2	3

 IN OGNI RIGA **COLORA IN FILA** LA QUANTITÀ DI ELEMENTI INDICATA DAL NUMERO.

3		4		5	
1		2		0	
5		0		4	
0		3		1	
2		5		3	
4		1		2	

 QUANTI ELEMENTI **COLORATI** CI SONO IN OGNI RIGA? ALLENATI A CONTARLI "AL VOLO" E, QUANDO SEI VELOCISSIMO, SCRIVI IL NUMERO.