



Siamo alla fine! Esercizi di MATEMATICA a Maggio - 2 -

 Copia il problema e risolvi sul quaderno con il disegno, l'operazione e il diagramma a blocchi. Infine rispondi.

Problema: **le mosche**



In classe c'erano 14 mosche affamate; 8 si posano su una mela lasciata a metà sul banco di Ilaria e cominciano a mangiarla.

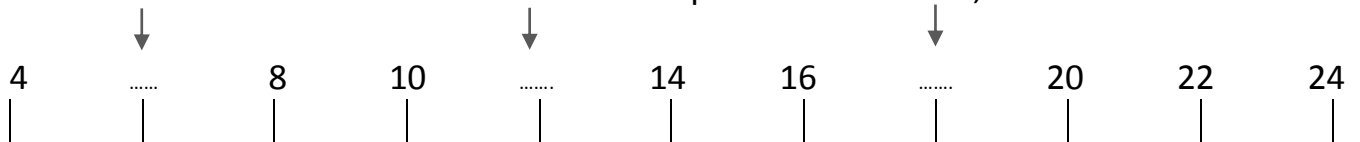
<<Guardate quelle sciocche, che per giocare a mosca cieca restano a pancia vuota!>> esclamano vedendo le altre mosche che volano qua e là.


Quante mosche sono rimaste a svolazzare?

 Riscrivi i numeri in ordine **crescente**.

 Riscrivi i numeri in ordine **decrescente**.

 Osserva la retta dei numeri **a salti** e scrivi quelli che mancano, indicati dalle frecce.



 Confronta le coppie di numeri espressi in operazione usando i simboli **>**, **<** e **=**.

$6 + 4$ $10 - 5$ $12 - 3$ $4 + 4$ $8 + 4$ $20 - 5$ $13 - 7$ $5 + 4$

 Scrivi i numeri che corrispondono a queste decine e unità. Attento alla marca!

u 7 da 1 → _____ u 2 da 0 → _____ da 1 u 0 → _____

da 2 u 0 → _____ da 1 u 5 → _____ da 1 u 3 → _____

 Risolvi la catena di operazioni.

