


Siamo alla fine! Esercizi di MATEMATICA a Maggio

 Copia i problemi e risolvi sul quaderno con il disegno, l'operazione e il diagramma a blocchi. Infine rispondi.

Problema: **la frutta**


In un cestino ci sono 4 pere, 5 mele e 3 banane.


Quanti frutti ci sono in tutto?

Problema: **i libri**

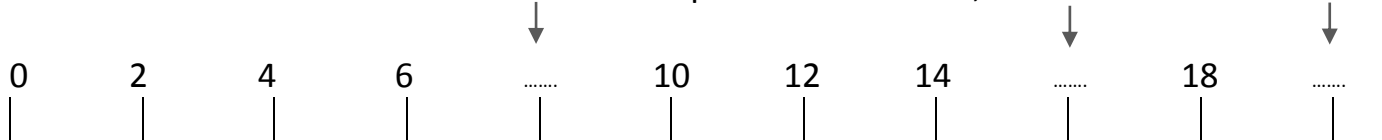
Nella libreria di classe sono rimasti 4 libri di Geronimo Stilton perché i bambini ne hanno portati a casa 10.


Quanti erano i libri in tutto?

 Riscrivi i numeri in ordine **crescente**.

 Riscrivi i numeri in ordine **decrescente**.

 Osserva la retta dei numeri **a salti** e scrivi quelli che mancano, indicati dalle frecce.



 Confronta le coppie di numeri espressi in operazione usando i simboli $>$, $<$ e $=$.

$3 + 2$ $6 - 2$ $5 + 3$ $12 - 1$ $4 + 3$ $12 - 5$ $7 + 3$ $15 - 4$

 Scrivi i numeri che corrispondono a queste decine e unità. Attento alla marca!

u 4 da 1 \rightarrow _____ u 8 da 0 \rightarrow _____ da 1 u 6 \rightarrow _____

da 1 u 5 \rightarrow _____ da 1 u 8 \rightarrow _____ da 0 u 7 \rightarrow _____

 Risolvi la catena di operazioni.

