


Storia: ora in punto e leggere i minuti.

L'ORA IN PUNTO




Quando la lancetta corta è su un numero qualsiasi e quella lunga è sul 12, l'ora indicata da quella corta si dice "in punto".


Questo orologio, ad esempio, segna le ___ in punto.

✎ 1. Prendi il tuo orologio di cartone e disponi le lancette a indicare le seguenti ore in punto; poi disegna le lancette sugli orologi. Usa questi colori: rosso la lancetta delle ore; blu la lancetta dei minuti.

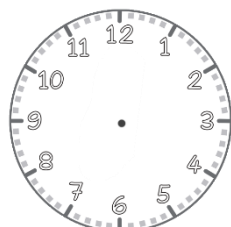
ore 2




ore 5




ore 7



ore 11




ore 4



LEGGERE MINUTI

1 MINUTI
SI CONTANO PER 5.
L'OROLOGIO CHE VEDI
SEGNA LE...
4 e 15 MINUTI.



✎ 2. Completa la tabella contando per 5 le tacche dei minuti sul tuo orologio di cartone.

Se la lancetta lunga è sul numero...

1	2	3	4	5	6	7	8	9	10	11	12
5	10	15									

i minuti sono